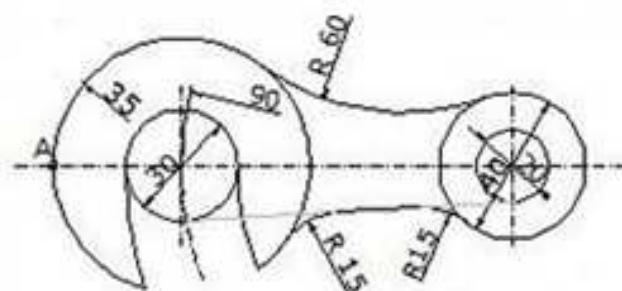
	Gobierno de Navarra Departamento de Educación	
GOI MAILAKO HEZIKE TA ZIKLOETARAKO SARBIDE PROBA		
ARTEETAKO BERARIAZKO ZATIA		
2019ko DEIALDIA		
31/2019 EBAZPENA otsailaren 1eko		
23-05-2019		


MARRAZKE TA TEKNIKO A

EPAIMAHAI		KALIFIKAZIOA	
DEITURAK			
IZENA			
NANa			

Ariketak A3 formatuko orri batean egin behar dira, soluzioa lortzeko egindako eragiketa grafikoak ezabatu gabe.

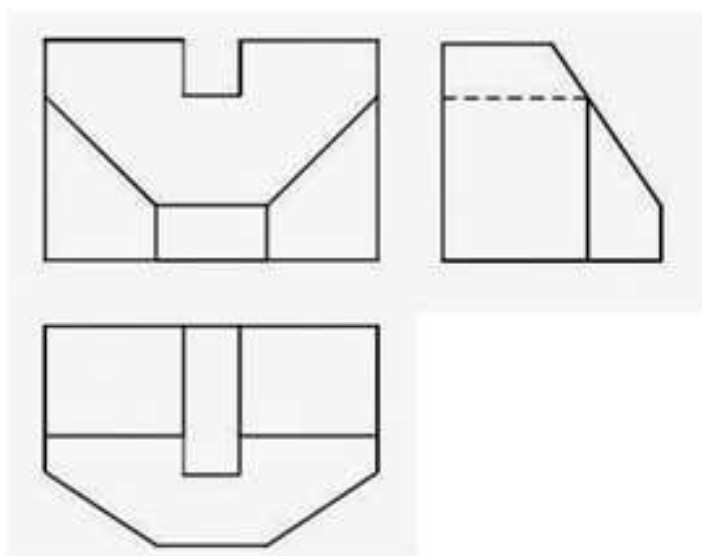
- 1/100 ESKALAN TRIANGELU BAT EGITEA, JAKINIK ALDEAK DIRELA**
 $AB=10$ metro ETA $BC=8$ metro ETA ALDEAREKIKO ALTUERA DELA
 AC , $H_b=6$ metro. Puntuazioa, gehienez ere: 1,5 puntu
- MARRAZTU ELIPSE BAT, ARDATZEN NEURRIA JAKINIK: ARDATZ**
HANDIA $AB=90$ mm, **ARDATZ TXIKIA** $CD=65$ mm. Puntuazioa, gehienez
 ere: 1,5
- EMANDAKO KROKISEAN OINARRITURIK, MARRAZTU EZAZU**
IRUDIA 1:1 ESKALAN, MARKATU ITZAZU MARRAZTU BEHARREKO
ARKUEN ZENTROAK ETA IRUDIKO ARKU ETA ZUZENEN ARTEKO
TANGENTZIA PUNTUAK. Puntuazioa, gehienez ere: 2



 Gobierno de Navarra Departamento de Educación	
GOI MAILAKO HEZIKETA ZIKLOETARAKO SARBIDE PROBA	
ARTEETAKO BERARIAZKO ZATIA	
2019ko DEIALDIA	
31/2019 EBAZPENA, otsailaren 1eko	
23-05-2019	

3. SOLIDO BATEN BISTAK HAUEK BADIRA SISTEMA DIEDRIKOAN, MARRAZTU EZAZU PIEZAREN PERSPEKTIBA ISOMETRIKOA 2:1 ESKALAN.

Puntuazioa, gehienez ere: 2,5



4. PROIEKZIO DIEDRIKOAREN SISTEMAN, IRUDIKATU ONDOKO PIEZAREN HIRU BISTA (GOITIKO BISTA, AURRETIKO BISTA ETA EZKERRETIKO BISTA). ESKU HUTSEZ MARRAZTU BEHAR DIRA ETA KOTARIK GABE.

Puntuazioa, gehienez ere: 2,5